





La princesse a trouvé 8 chocolats.
Elle en mange 2.
Elle en donne 4 à ses amis.
Elle garde tout le reste.
Combien en garde-t-elle?




Elle garde 2 chocolats

<http://lamaitresseaupetitpois.eklablog.com>




La princesse a trouvé 7 chocolats.
Elle en mange 3.
Elle en donne 3 à ses amis.
Elle garde tout le reste.
Combien en garde-t-elle?




Elle garde 1 chocolat

<http://lamaitresseaupetitpois.eklablog.com>




La princesse a trouvé 10 chocolats.
Elle en mange 2.
Elle en donne 4 à ses amis.
Elle garde tout le reste.
Combien en garde-t-elle?




Elle garde 4 chocolats

<http://lamaitresseaupetitpois.eklablog.com>



La princesse a trouvé 9 chocolats.
Elle en mange 3.
Elle en donne 3 à ses amis.
Elle garde tout le reste.
Combien en garde-t-elle?



Elle garde 3 chocolats

<http://lamaitresseaupetitpois.eklablog.com>