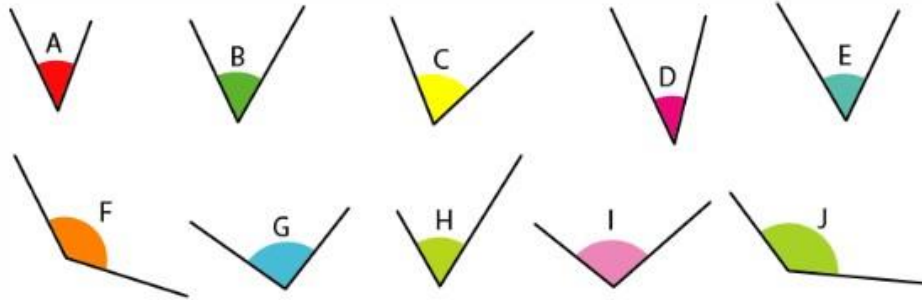


# Les angles

Compare les angles à l'aide des signes  $< = >$ .



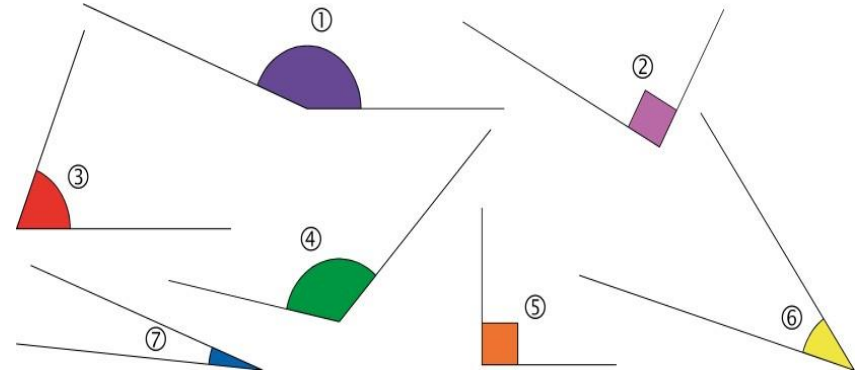
A ..... B    C ..... D    E ..... F    G ..... H    I ..... J

Coche la bonne réponse.

<input type="checkbox"/> droit <input type="checkbox"/> aigu <input type="checkbox"/> obtus	<input type="checkbox"/> droit <input type="checkbox"/> aigu <input type="checkbox"/> obtus	<input type="checkbox"/> droit <input type="checkbox"/> aigu <input type="checkbox"/> obtus
<input type="checkbox"/> droit <input type="checkbox"/> aigu <input type="checkbox"/> obtus	<input type="checkbox"/> droit <input type="checkbox"/> aigu <input type="checkbox"/> obtus	<input type="checkbox"/> droit <input type="checkbox"/> aigu <input type="checkbox"/> obtus

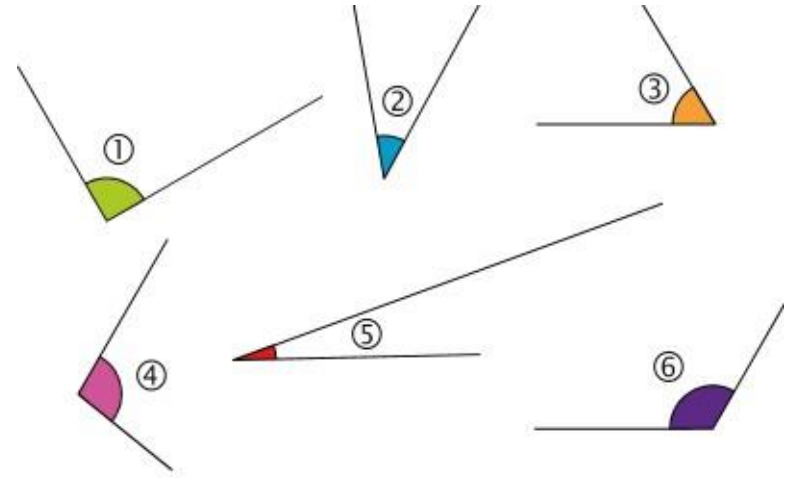
# Les angles

Classe les angles dans le tableau.



Angles obtus	Angles aigus	Angles droits

Classe les angles dans l'ordre croissant



.... < .... < .... < .... < .... < ....