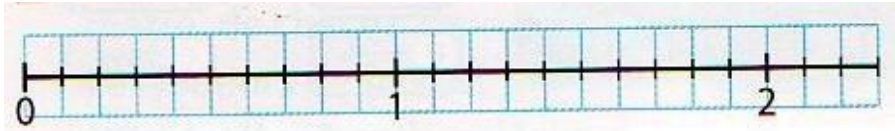
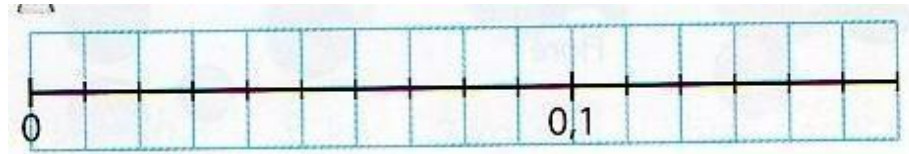


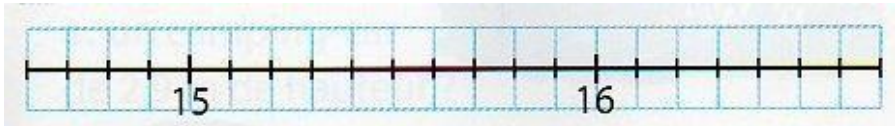
➔ **Exercice 5** : Place les nombres. 1,7 • 0,2 • 0,9 • 1,5 • 2,1



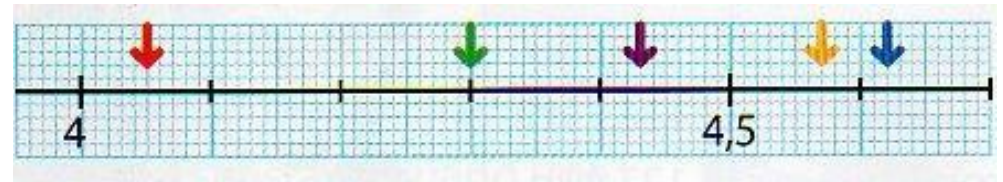
➔ **Exercice 6** : Place les nombres. 0,01 • 0,14 • 0,08 • 0,12 • 0,05



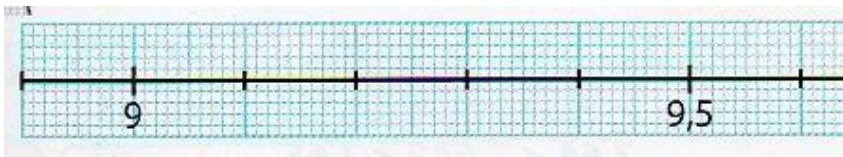
➔ **Exercice 7** : Place les nombres. 15,4 • 16,1 • 14,8 • 15,9 • 16,5



➔ **Exercice 8** : Retrouve le nombre décimal représenté par chaque flèche.



➔ **Exercice 9** : Place les nombres. 9,1 • 9,28 • 9,04 • 9,56 • 8,95



➔ **Exercice 10** : Retrouve le nombre décimal représenté par chaque flèche.

