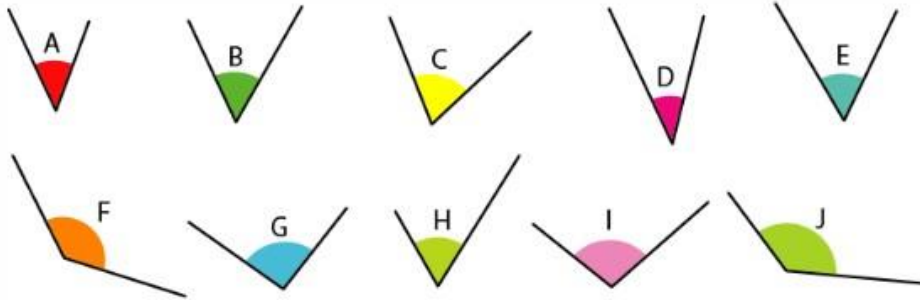


Les angles

Compare les angles à l'aide des signes $< = >$.



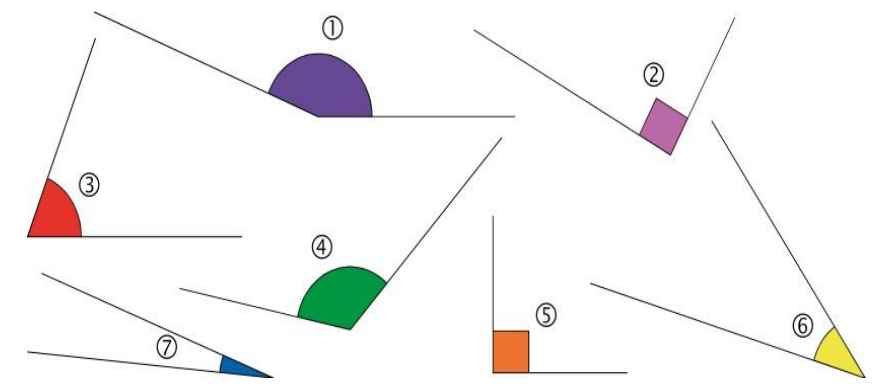
A < B C > D E < F G > H I < J

Coche la bonne réponse.

<input type="checkbox"/> droit <input type="checkbox"/> aigu <input checked="" type="checkbox"/> obtus	<input type="checkbox"/> droit <input checked="" type="checkbox"/> aigu <input type="checkbox"/> obtus	<input type="checkbox"/> droit <input checked="" type="checkbox"/> aigu <input type="checkbox"/> obtus
<input checked="" type="checkbox"/> droit <input type="checkbox"/> aigu <input type="checkbox"/> obtus	<input type="checkbox"/> droit <input type="checkbox"/> aigu <input checked="" type="checkbox"/> obtus	<input type="checkbox"/> droit <input checked="" type="checkbox"/> aigu <input type="checkbox"/> obtus

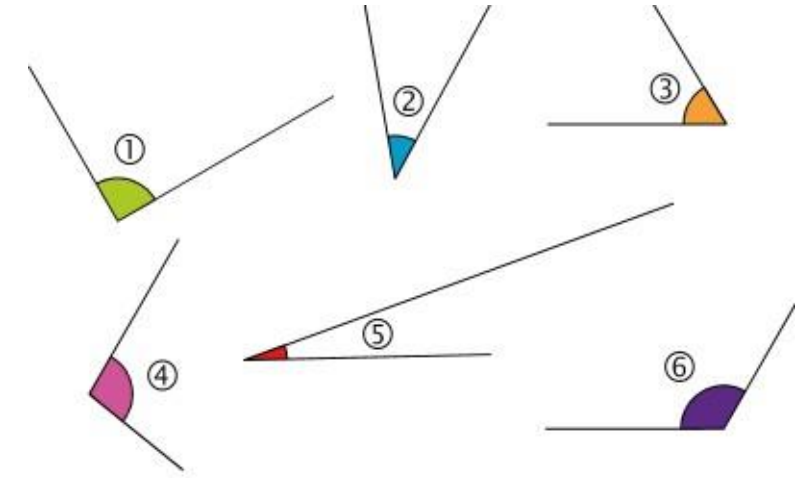
Les angles

Classe les angles dans le tableau.



Angles obtus		Angles aigus			Angles droits	
1	4	3	2	6	7	5

Classe les angles dans l'ordre croissant



5 < 2 < 3 < 1 < 4 < 6