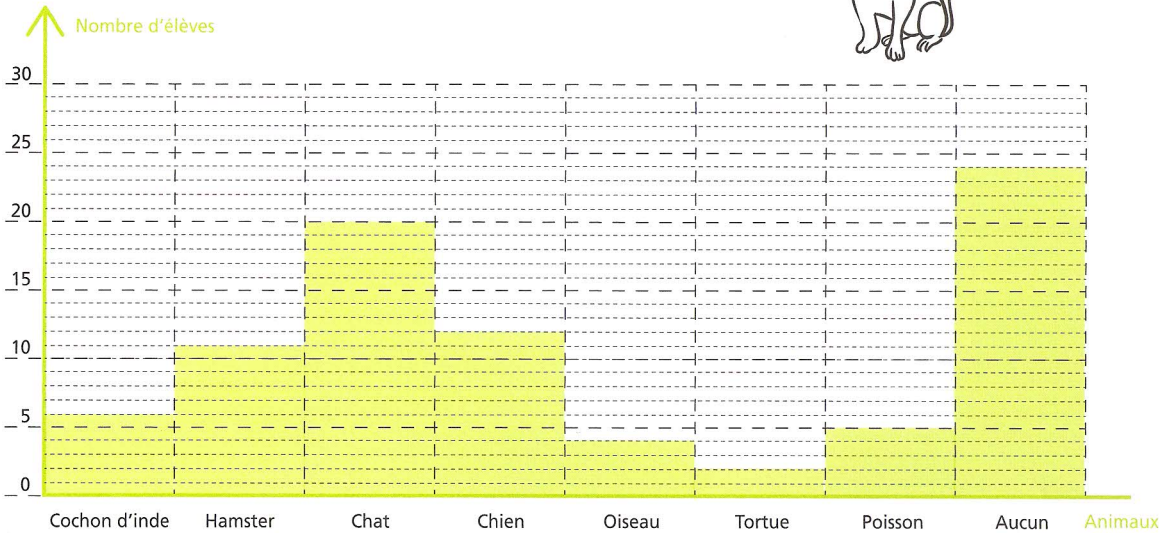





Date :

65 Nos animaux domestiques.

Ce graphique présente les animaux domestiques des élèves du cycle 2.



1 Combien d'élèves ont... ?



un chat ? une tortue ?
 un oiseau ? un poisson ?


2 Quel est l'animal possédé par le plus grand nombre d'élèves ?

3 Quel est l'animal possédé par le plus petit nombre d'élèves ?

4 Combien d'élèves n'ont aucun animal ?

5 Au total, combien d'animaux les élèves de cycle 2 ont-ils ?

.....





Date :

- 66 Robotin range ses 45 maquettes de voitures sur 5 grandes étagères. Il en met autant sur chaque étagère.




Combien de maquettes Robotin met-il sur chaque étagère ?

Opération(s)

Calcul(s)

Recherche

Phrase réponse



- 67 Pour aller à Paris, Robotine doit parcourir 350 km. Elle s'arrête pour se reposer, après avoir déjà parcouru 112 km. **Quelle distance Robotine doit-elle encore parcourir ?**

Opération(s)

Calcul(s)

Recherche

PARIS

Phrase réponse

